

小3

ウイングキッズコース

春期講習
算数

スタート講座②

市進教育グループ
ウイングキッズ

1 つぎの にあてはまる数を答えましょう。

(1) $6 \times 3 =$

(2) $5 \times 8 =$

(3) $4 \times 4 =$

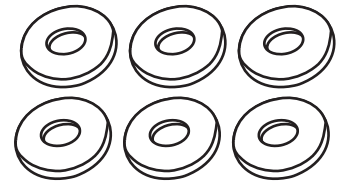
(4) $2 \times 9 =$

(5) $7 \times 3 =$ $\times 7$


(6) $9 \times 6 = 6 \times$

2 つぎの問いに答えましょう。


- (1) 1はこに6こずつ入ったドーナツが8はこあります。ドーナツはぜんぶで何こありますか。



- (2) 小さなバケツにペンキが3L入っています。大きなバケツには、小さなバケツの3ばいのペンキが入っています。大きなバケツに入っているペンキは何Lですか。



- (3) えんぴつを5人に6本ずつくばったら、えんぴつが3本あまりました。はじめにあったえんぴつは何本ですか。




- (4) アメが40こあります。8人に3こずつ分けました。のこったアメは何こですか。

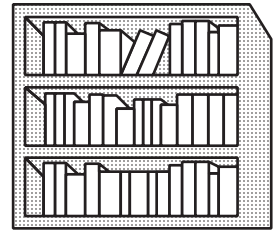


3 つぎの問いに答えましょう。

- (1) 赤えんぴつの長さは $12\text{ cm } 2\text{ mm}$ ，青えんぴつの長さは $9\text{ cm } 5\text{ mm}$ です。赤えんぴつは青えんぴつより何 cm 何 mm 長いですか。



- (2) 本だなのよこの長さをはかったら， 1 m のものさし 2 つぶんと 40 cm でした。本だなのよこの長さは何 cm ですか。



4 つぎの問いに答えましょう。

(1) 100 を 27 こあつめた数はいくつですか。

(2) 千のくらいが6, 百のくらいが8, 十のくらいが1, 一のくらいが9
の数はいくつですか。

(3) 1000 を5こと100を7こと1を2こ合わせた数はいくつですか。

(4) にあてはまる $>$, $<$, $=$ をかきましよう。

① 100 $40 + 70$

② 120 $55 + 65$

③ 75 $100 - 30$

5 つぎの問いに答えましょう。

(1) つぎの にあてはまる数やことばを答えましょう。

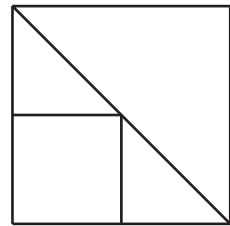
① 長方形は、 つのかどが、みんな になっている四角形のことです。

② 長方形のむかい合っているへんの長さは です。

③ 正方形は、 つのかどがみんな で、 つのへんの長さがみんな になっている四角形のことです。

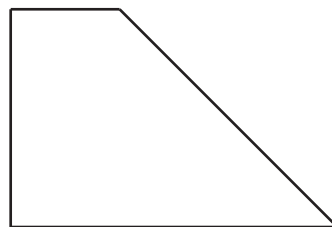
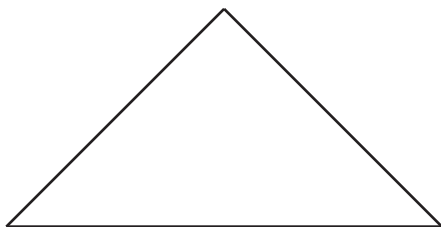
(2) 正方形の紙を、右のように4つに切りました。

この4つをならべかえて、下の①、②を作りました。どのようにならべかえましたか。図に線をかきましょう。



① 直角三角形

② 四角形



6 マラソン大会でかけるくんは前から15番目，後ろから10番目を走っています。

つぎの問いに答えましょう。

- (1) 走っている人はせんぶで何人ですか。
- (2) れいくんは後ろから7番目を走っています。かけるくんとれいくんの間には何人いますか。
- (3) れいくんは4人ぬきました。れいくんのほかに前の人をぬいた人はいませんでした。いま，かけるくんとれいくんの間には何人いますか。

