

((市進教育グループ))

のびしん じゅんびテスト 解答


～小1 かずとはっけんのもんだい～

- 1 (1) 14 こ (2) 7 にん
- 2 (1) 9 こ (2) 6 こ
- 3 (1) あか (2) 10 ほん

【かんがえかた】

- 1 (1) $8 + 6 = 14$ (こ)
- (2) $15 - 8 = 7$ (にん)

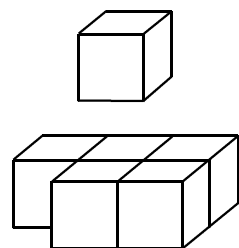
2 (1)



ひだりのようになります。

くりは $3 + 3 + 3 = 9$ (こ)

(2)



... 1 こ

... 5 こ

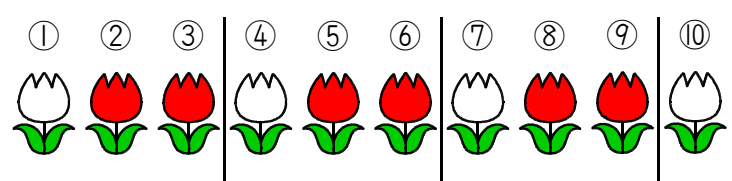
ひだりのように、うえとしたにわけてかんがえます。

のこっているつみきは $1 + 5 = 6$ (こ)

とったつみきは $12 - 6 = 6$ (こ)

3 (1)

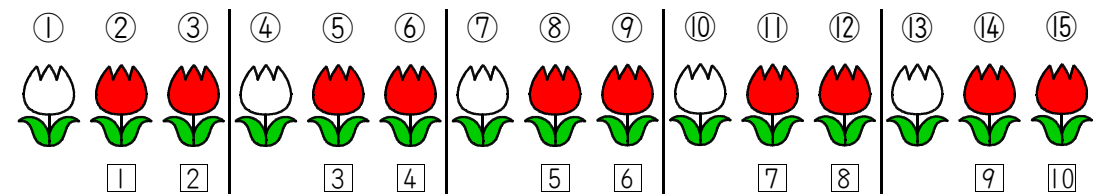
(ひだり)



..... (みぎ)

(しろ, あか, あか) の3ほんのくりかえしになっていることがわかります。したがって、ひだりから11ばんめのはなは、あかになります。

(2)



15ほんのはなは、うえのようにならんでいるので、あかのはなは10ほんになります。