


((市進教育グループ))

のびしん じゅんびテスト

～ 小1 かずとはっけんのもんだい ～

1 つぎの もんだいに こたえましょう。


(1) あおい ふうせんが 8こ、
きいろい ふうせんが 6こ
あります。ふうせんは ぜんぶで
なんこ ありますか。



(こたえ)

こ

(2) こどもが 15にん います。
そのうち おんなのこは 8にんです。
おとこのこは なんにん いますか。




(こたえ)

にん

2 つぎの もんだいに こたえましょう。

(1) こどもが 3にん います。くりを ひとりに 3こずつ あげます。くりは ぜんぶで なんこ いらいますか。

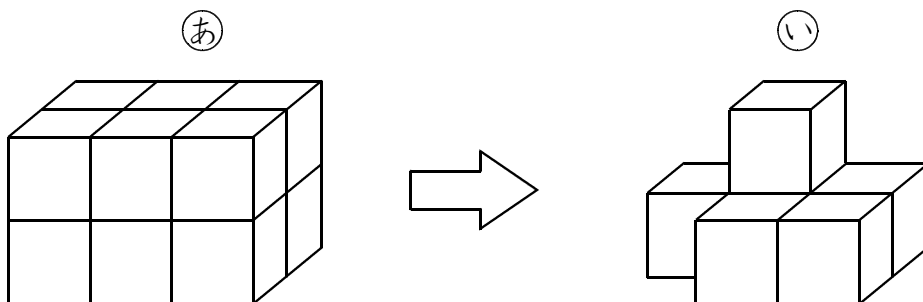


(こたえ) こ

(2) したの ㊦のように、かたちも おおきさも おなじ つみきを 12こ つみました。㊦から つみきを なんこか とったら、

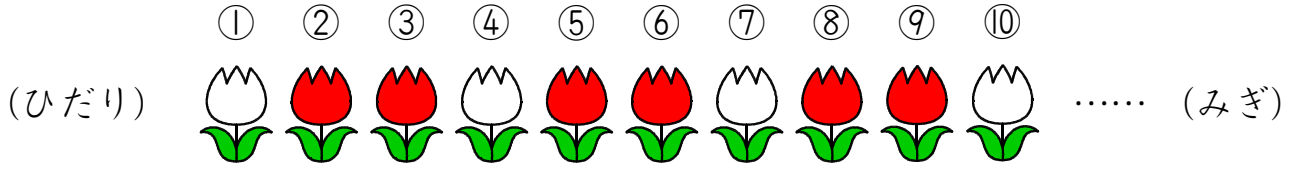
㊧のように になりました。

とった つみきは なんこですか。



(こたえ) こ

3 つぎのように、きまりに したがって、しろと あかの はなを
15ほん ならべます。



(1) ひだりから 11ばんめの はなの いろを こたえましょう。

(こたえ)

(2) あかの はなは ぜんぶで なんほん ありますか。

(こたえ) ほん

1 2 各 15 点 × 4

3 各 20 点 × 2

/100