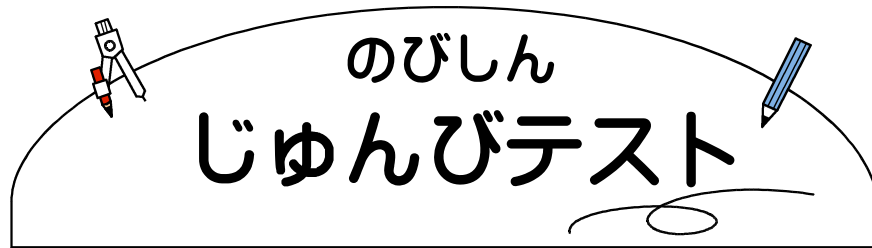


((市進教育グループ))



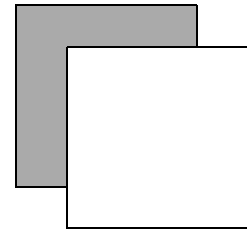
のびしん じゅんびテスト

～ 小2 かず はっけん もんだい 数と発見の問題 ～

* こたえは、すべて かいとうようし 解答用紙に か 書きましょう。

□ つぎの といに こたえましょう。

(1) 赤の おり紙が 48 まい、白の おり紙が
35 まい あります。おり紙は ぜんぶで
なん 何まい ありますか。



(2) 87 mmは 何cm何mmですか。

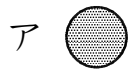
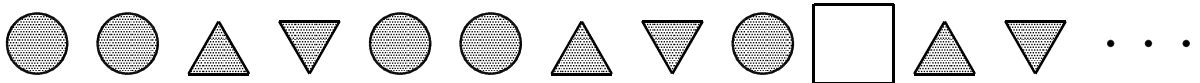
(3) お茶が ちゃ 1 L 3 dL あります。
水とうに 5 dL 入れると、のこりの
お茶は 何dLに なりますか。



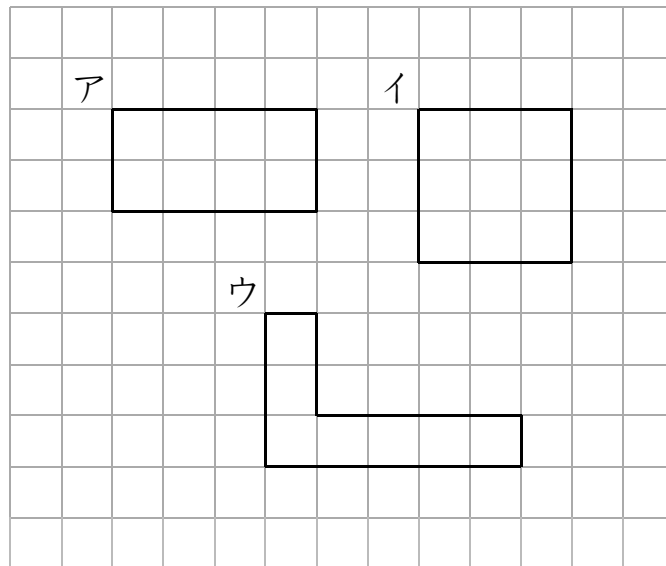
2 つぎの といに こたえましょう。

(1) きまりに したがって、かたちが ならんで います。

□ に 入る かたちを ア～ウから 1つ えらんで きごうで こたえましょう。



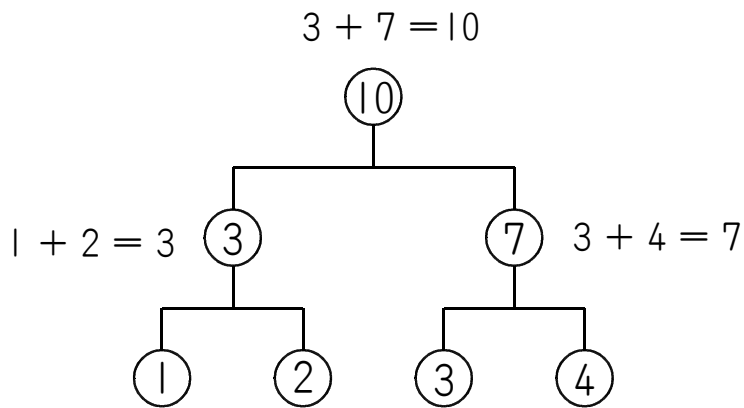
(2) つぎの ア～ウの 中で いちばん ひろい かたちは どれですか。



3 ○の 中の ^{かず} 数を つぎの きまりで ^{けいさん} 計算します。

<きまり>

下の ように、よこに ならんだ ○の 中の 2つの 数を たして、その こたえを 上の ○の 中に ^か 書きます。



つぎの ア～ウに 入る 数を こたえましょう。

