

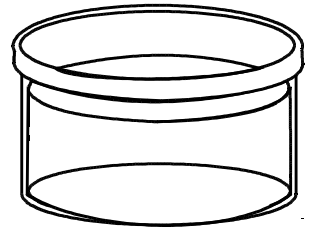
((市進教育グループ))

のびしん  
じゅんびテスト


～ 小3 数と発見の問題 ～

1 つぎの問<sup>と</sup>いに答えましょう。

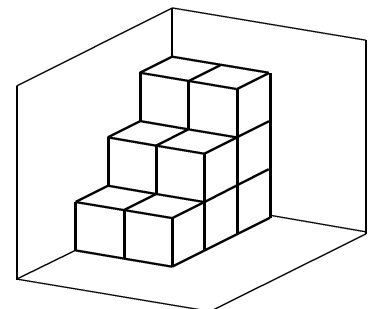
(1) 水そうに水が52dL入っています。28dLくみ出したあと、17dL入れると、水そうに入っている水は何dLになりますか。



(2) 1ふくろに6こずつ入ったパンが5ふくろあります。8人に3こずつくばると、のこりは何こになりますか。




(3) サイコロの形をした積み木を右の図のようにつみました。積み木はぜんぶで何こありますか。



2 つぎの問いに答えましょう。

- (1) コスモスを男の子には3本ずつ、女の子には4本ずつ配くばったら、コスモスは全部ぜんぶで17本になりました。男の子は何人いますか。



- (2) 下の図1のア～カに1～6までの数を1つずつ入れます。Aにはア、イ、エ、オの数の合計、Bにはイ、ウ、オ、カの数の合計を書きます。図2のように数を入れると、AとBの数の合計はいくつになりますか。

図1

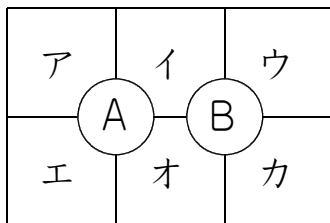
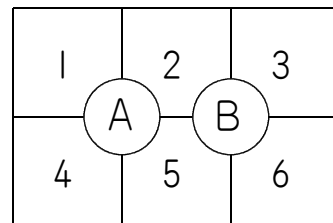
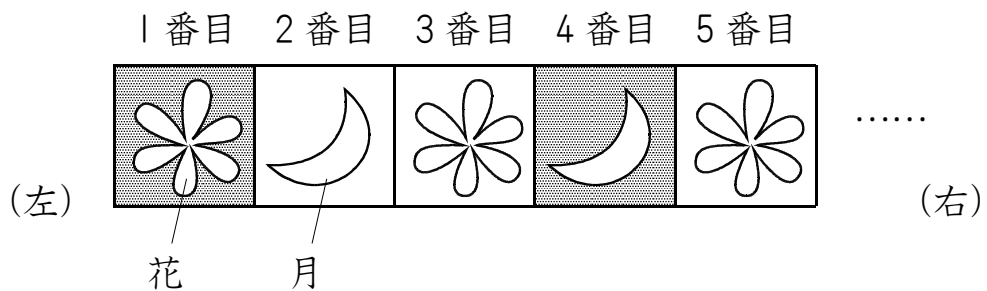


図2



3 正方形のタイルがあるきまりにしたがって、つぎのようにならんでいます。

- 色は、青と白の2色で、(青, 白, 白)の順番じゅんばんにくり返す。
- 書かれている絵は花と月の2つで(花, 月)の順番かえにくり返す。



つぎの問いに答えましょう。

- (1) 左から9番目のタイルの色と書かれている絵は何ですか。  
つぎのア~エからえらんで、記号きごうで答えましょう。

ア 青            イ 白            ウ 花            エ 月

- (2) タイルは全部で24まいあります。色が青で、絵が月のタイルは何まいありますか。