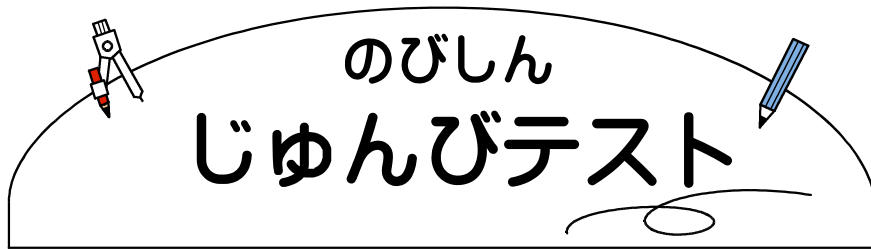


((市進教育グループ))



～ 小4 数と発見の問題 ～

1 次の にあてはまる数を答えましょう。

(1) $617 - 245 =$

(2) $259 \div 7 =$

(3) $95 \div 4 =$ あまり


(4) $56 \times 34 =$

(5) $43 \times 4 + 78 =$

(6) $74 -$ $= 50$

2 次の問いに答えましょう。


(1) 1000 円で1こ 120 円のシュークリームを
買うと、どこまで買うことができますか。



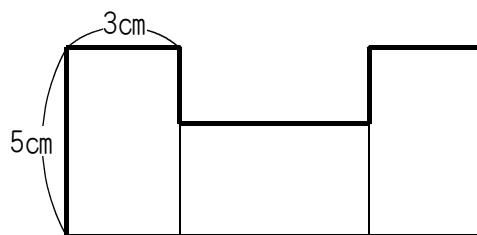
(2) 右のような5けたの数があります。
左の1は右の1の何倍の大きさを表して
いますか。

21718

(3) 色紙を小学生 57 人に 12 まいずつ、中
学生 23 人に 15 まいずつ配ります。色紙
は全部で何まいいますか。



(4) 下の図のように、同じ大きさの長方形を3まいならべました。
まわりの長さ（太線部分）は何cmになりますか。



3 リンゴ，ナシ，カキ，クリの4種類しゅるいのくだものがあり，それぞれのこ数について，次のことがわかっています。

- カキのこ数は，クリよりも4こ少なく，リンゴよりも3こ多い。
- クリとナシのこ数の差さは6こ。
- いちばん多いくだものこ数はナシのこ数の2倍。

次の問いに答えましょう。

(1) いちばんこ数が多いくだものは何ですか。

(2) くだものは全部で何こありますか。

